

O Kim antes de iniciar qualquer atividade prepara-se para a aventura que vai ter. *

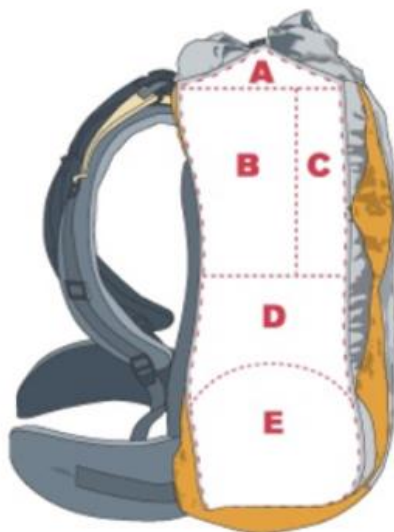
O seu chefe enviou-lhe a seguinte mensagem:

(Coloca a solução da cifra no campo de resposta a baixo)

**EDGSIBTYDADU ACZTDSIPPVWSIZLDNHASBDMZEAO SOAEVIRLIAAB
NCXUFIMERAZQ MAAOGONEGTHHAOFNTCHNIXA**

Se Após receber essa informação foi rapidamente fazer a mochila.

Em que locais da mochila deve o Kim guardar o seu material? Associa a letra do local ao(s) número(s) de cada material.



Material do Kim

1) Saco Cama

5) Chapéu

2) Água

6) Almoço

3) Roupas

7) Impermeável

4) Lanterna

8) Higiene Pessoal

Após preparar a sua mochila, o Kim foi até à sede, onde encontrou o seu guia que lhe deu outra mensagem:

(Coloca a solução da cifra no campo de resposta a baixo)

NCNEUOAOYTYVMNCSJEOTZDUVNRARAETANHAN

De seguida, o seu guia quis colocar os conhecimentos do Kim à prova, realizou 6 * nós e pediu que o Kim dissesse os seus nomes.

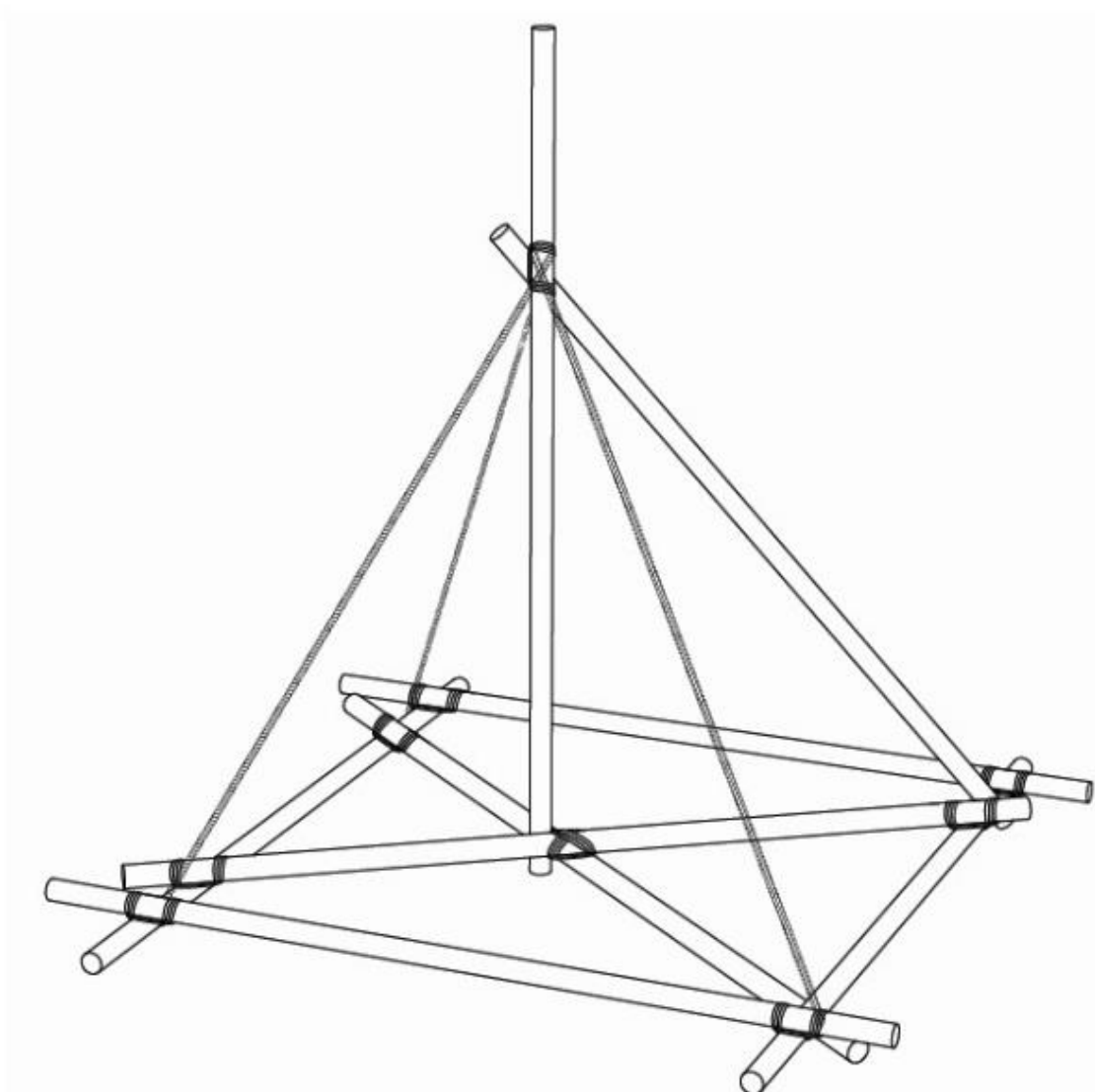
Abre o link abaixo e diz por ordem de execução o nome dos nós realizados:

[Prova Guia <- Link](#)

Quais dos nós são usados para unir duas cordas de espessura diferente? *

Após ser colocado à prova a patrulha do Kim recebeu a seguinte construção para realizar:

(Tira 4 fotos à construção que realizaste. 2 fotos de ligações diferentes uma da execução e por último com a construção finalizada.)



Quando terminaram, o chefe deu a última pista para revelar o local do acampamento.

(Coloca a solução da cifra no campo de resposta a baixo)

Z NLMGZMSZ HL GVIZ MVEV ML XFNV

Em que local será o acampamento? *



A)



B)



C)



D)

☐ A)

☐ B)

☐ C)

☐ D)

Mal soube onde era o local, a patrulha do Kim recebeu as coordenadas para se deslocar até lá. Esta encontrava-se num cruzamento perto de Amissó com a seguinte coordenada:

29T 0569360 UTM 4606510

Eles tinham de ir até ao local mais alto da quadrícula do mapa onde se encontravam.

(Escreve a coordenada desse local.)

O Kim estava muito curioso para saber se o caminho era difícil e então quis fazer um gráfico de desnível do caminho que iam percorrer. O seu chefe alertou-o que teriam de ir sempre pela estrada.

(Realiza o gráfico de desnível com no mínimo 4 pontos e envia a fotografia dele)



Após chegarem ao cume, a Patrulha tinha de se dirigir para a eucaristia e o chefe desafiou-os a tirar a azimute inverso da Igreja de Amissó a partir do ponto onde se encontravam.

(Escreve qual é o azimute inverso que a patrulha deve colocar)

A Patrulha do Kim, após chegar ao local do acampamento começou, a preparar-se para realizar cozinha selvagem.

Antes de iniciar uma fogueira para cozinha selvagem devo:



	Verdadeiro	Falso
1.Desmatar a área em torno do local da fogueira;	<input type="radio"/>	<input type="radio"/>
2.Afastar os materiais inflamáveis, para além da área onde ficarão os participantes;	<input type="radio"/>	<input type="radio"/>
3.Usar papeis ou palhas como acendalha poderá ajudar na ignição.	<input type="radio"/>	<input type="radio"/>
4.Executar uma barreira física em redor do fogo com material não inflamável, nomeadamente terra ou pedras.	<input type="radio"/>	<input type="radio"/>
5.Agrupar a lenha que irá “alimentar” a fogueira o mais próximo da fogueira, dentro da barreira física que protege o fogo de se alastrar	<input type="radio"/>	<input type="radio"/>
6.Deverá ser nomeado um responsável pela fogueira e garantir um corredor de acesso, para este alimentar o fogo e apagá-lo, se necessário;	<input type="radio"/>	<input type="radio"/>
7.Ter sempre disponível material de extinção de incêndios: balde de água, pá e areia, extintor, manta ignífuga;	<input type="radio"/>	<input type="radio"/>
8.No final, verificar a existência de cinzas incandescentes, apagá-la muito bem com água e terra	<input type="radio"/>	<input type="radio"/>

A outra patrulha resolveu cozinhar em fogão

*

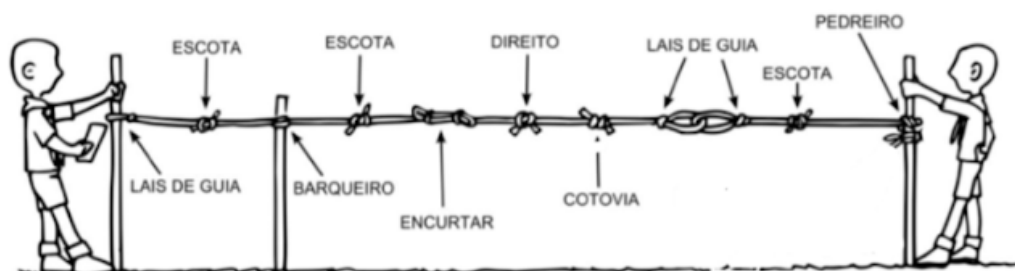
Ordena os procedimentos a tomar antes de começarem a cozinhar:

- A) Desmatar a área em torno da cozinha;
- B) Colocar o fogão em bom estado em cima de um estrado de madeira
- C) Ligar a botija a 1,5m do fogão
- D) Construir um estrado de madeira seguro e nivelado
- E) Verificar as condições de degradação do material de cozinha e a validade da mangueira
- F) Acender a chama do fogão com um fósforo grande abrindo levemente a saída de gás do fogão

Durante a noite e após o fogo de conselho, o chefe do Kim desafiou a sua patrulha a realizar o seguinte jogo: Usem estes nós e tentem equilibrar a vara que fica no centro para que esta não caia:

*

(Envie 6 fotos. Uma de cada nó diferente e uma com a estrutura final)



Carregue até 10 ficheiros suportados: PDF, document, drawing, image ou presentation. Máximo de 10 GB por ficheiro.

Como último desafio o Chefe do Kim pediu que realizassem a seguinte estrutura * para que, em patrulha, pudessem equilibrá-la fortalecendo assim a sua comunicação:

(Enviem uma foto a serrar o pau, outra a afiar o pau, outra com a ligação realizada e por fim outra foto com os elementos da patrulha a segurar na estrutura)

